

Autoevaluación

Página 166

- 1** Halla el lado de un pentágono regular inscrito en una circunferencia de radio 8 cm.

El ángulo central del pentágono regular es $\frac{360^\circ}{5} = 72^\circ$.

Si l representa al lado: $\text{sen } 36^\circ = \frac{l/2}{8} \rightarrow l = 16 \text{ sen } 36^\circ = 9,4 \text{ cm}$

- 2** Calcula los lados y los ángulos del triángulo ABC .

$$\cos 50^\circ = \frac{3}{\overline{AB}} \rightarrow \overline{AB} = \frac{3}{\cos 50^\circ} = 4,67 \text{ cm}$$

$$\text{tg } 50^\circ = \frac{\overline{BD}}{3} \rightarrow \overline{BD} = 3 \cdot \text{tg } 50^\circ = 3,58 \text{ cm}$$

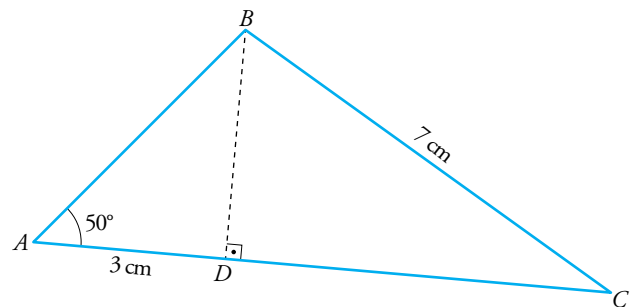
$$\overline{DC}^2 + 3,58^2 = 7^2 \rightarrow \overline{DC} = \sqrt{7^2 - 3,58^2} = 6,02 \text{ cm}$$

$$\overline{AC} = 3 + 6,02 = 9,02 \text{ cm}$$

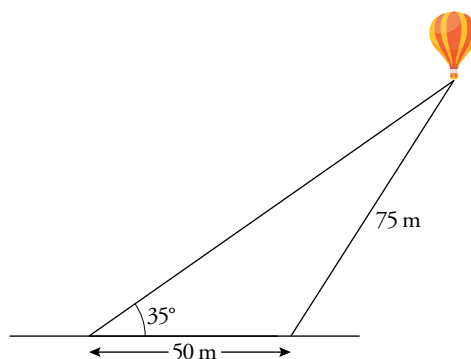
$$\text{sen } \hat{C} = \frac{\overline{BD}}{\overline{BC}} = \frac{3,58}{7} = 0,511$$

$$\hat{C} = 30^\circ 43' 49''$$

$$\hat{B} = 180^\circ - 50^\circ - 30^\circ 43' 49'' = 99^\circ 16' 10''$$



- 3** Un globo aerostático está sujeto al suelo en dos puntos que distan entre sí 50 m. El cable más corto mide 75 m y el más largo forma un ángulo de 35° con el suelo. Halla la altura a la que se encuentra el globo y la longitud del cable más largo.



Llamemos h a la altura del globo y x a la distancia desde la base de esa altura hasta el cable más corto.

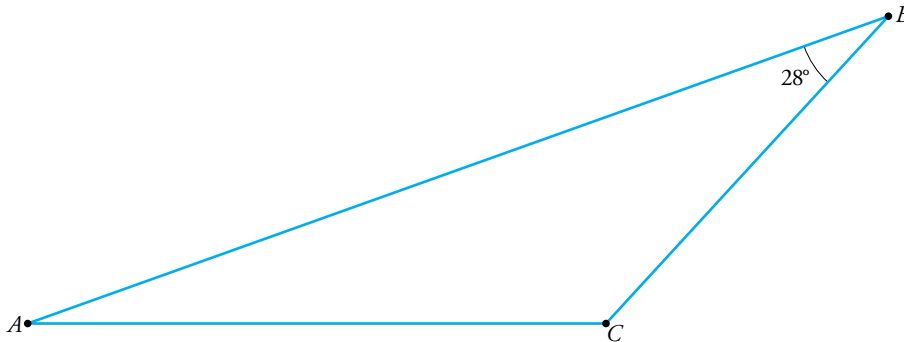
$$\begin{cases} \text{tg } 35^\circ = \frac{h}{50+x} \rightarrow h = \text{tg } 35^\circ (50+x) \rightarrow h = 0,7(50+x) \rightarrow h = 3,5 + 0,7x \\ x^2 + h^2 = 75^2 \end{cases}$$

$$x^2 + (3,5 + 0,7x)^2 = 75^2 \rightarrow 1,49x^2 + 4,9x - 5612,75 = 0, \text{ que da lugar a una solución válida, } x = 59,7 \text{ m.}$$

La altura del globo es $h = 3,5 + 0,7 \cdot 59,7 = 45,29 \text{ m}$

La longitud del cable más largo es $\sqrt{(50 + 59,7)^2 + 45,29^2} = 118,68 \text{ m}$

- 4 En un triángulo ABC conocemos $\overline{AC} = 115$ m, $\overline{BC} = 83$ m y $\widehat{ABC} = 28^\circ$. Calcula los demás elementos del triángulo. ¿Podemos asegurar que $\overline{AB} > \overline{AC}$?



$$\frac{115}{\operatorname{sen} 28^\circ} = \frac{83}{\operatorname{sen} \widehat{A}} \rightarrow \operatorname{sen} \widehat{A} = \frac{83 \cdot \operatorname{sen} 28^\circ}{115} = 0,34 \rightarrow \widehat{A} = 19^\circ 52' 37''$$

$$\widehat{C} = 180^\circ - (28^\circ + 19^\circ 52' 37'') = 132^\circ 7' 23''$$

$$\frac{115}{\operatorname{sen} 28^\circ} = \frac{\overline{AB}}{\operatorname{sen} \widehat{C}} \rightarrow \overline{AB} = \frac{115 \cdot \operatorname{sen} \widehat{C}}{\operatorname{sen} 28^\circ} = 181,7 \text{ m}$$

Sí podemos asegurarlo porque los ángulos opuestos respectivos cumplen que $\widehat{C} > \widehat{B}$.

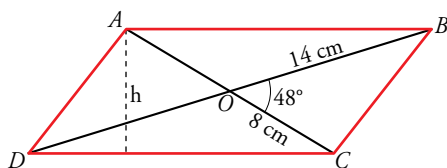
- 5 Justifica si existe algún ángulo α tal que $\operatorname{tg} \alpha = \frac{2}{3}$ y $\operatorname{sen} \alpha = \frac{1}{2}$.

$$\operatorname{tg} \alpha = \frac{2}{3} \rightarrow \frac{\operatorname{sen} \alpha}{\operatorname{cos} \alpha} = \frac{2}{3} \rightarrow \operatorname{cos} \alpha = \frac{3}{2} \operatorname{sen} \alpha = \frac{3}{2} \cdot \frac{1}{2} = \frac{3}{4}$$

$$\operatorname{sen}^2 \alpha + \operatorname{cos}^2 \alpha = \left(\frac{1}{2}\right)^2 + \left(\frac{3}{4}\right)^2 = \frac{13}{16} \neq 1$$

No se satisface la identidad fundamental, luego no existe tal ángulo.

- 6 Las diagonales de un paralelogramo miden 16 cm y 28 cm y forman un ángulo de 48° . Calcula el perímetro y el área de dicho paralelogramo.



Utilizamos el teorema del coseno en los triángulos BOC y AOB .

$$\overline{BC}^2 = 14^2 + 8^2 - 2 \cdot 14 \cdot 8 \operatorname{cos} 48^\circ \rightarrow \overline{BC} = 10,49 \text{ cm}$$

$$\overline{AB}^2 = 14^2 + 8^2 - 2 \cdot 14 \cdot 8 \operatorname{cos} (180^\circ - 48^\circ) \rightarrow \overline{AB} = 20,25 \text{ cm}$$

$$\text{Perímetro} = (10,49 + 20,25) \cdot 2 = 61,48 \text{ cm}$$

Para hallar el área, necesitamos conocer un ángulo del paralelogramo.

Hallamos el ángulo \widehat{A} del triángulo AOB .

$$\frac{14}{\operatorname{sen} \widehat{BAO}} = \frac{20,35}{\operatorname{sen} 132^\circ} \rightarrow \operatorname{sen} \widehat{BAO} = \frac{14 \cdot \operatorname{sen} 132^\circ}{20,25} \rightarrow \widehat{BAO} = 30^\circ 54' 57''$$

En el triángulo ACD , hallamos la altura.

$$\widehat{BAO} = \widehat{ACD} \rightarrow \operatorname{sen} 30^\circ 54' 57'' = \frac{h}{16} \rightarrow h = 8,22 \text{ cm}$$

$$\text{Área} = \frac{20,25 \cdot 8,22}{2} = 83,23 \text{ cm}^2$$

7 Busca, en cada caso, un ángulo del primer cuadrante que tenga una razón trigonométrica igual que el ángulo dado y di cuál es esa razón.

- a) 297° b) 1252° c) -100° d) $\frac{13\pi}{5}$

a) $297^\circ = 360^\circ - 63^\circ \rightarrow \cos 297^\circ = \cos 63^\circ$

b) $1252^\circ = 360^\circ \cdot 3 + 172^\circ$; $172^\circ = 180^\circ - 8^\circ$; $\operatorname{sen} 1252^\circ = \operatorname{sen} 8^\circ$

c) $-100^\circ + 360^\circ = 260^\circ$; $260^\circ = 180^\circ + 80^\circ$; $\operatorname{tg}(-100^\circ) = \operatorname{tg} 80^\circ$

d) $\frac{13\pi}{5} = 2\pi + \frac{3\pi}{5}$; $\frac{3\pi}{5} = \pi - \frac{2\pi}{5}$; $\operatorname{sen} \frac{13\pi}{5} = \operatorname{sen} \frac{2\pi}{5}$

8 Si $\operatorname{tg} \alpha = 2$ y $\cos \alpha > 0$, halla:

- a) $\cos 2\alpha$ b) $\operatorname{sen} \left(\frac{\pi}{2} - \alpha \right)$ c) $\operatorname{sen} \frac{\alpha}{2}$ d) $\operatorname{tg} \left(\frac{\pi}{4} + \alpha \right)$

$\operatorname{tg} \alpha = 2$ y $\cos \alpha > 0$, α está en el primer cuadrante.

$$1 + \operatorname{tg}^2 \alpha = \frac{1}{\cos^2 \alpha} \rightarrow 5 = \frac{1}{\cos^2 \alpha} \rightarrow \cos^2 \alpha = \frac{1}{5} \rightarrow \cos \alpha = \frac{1}{\sqrt{5}} = \frac{\sqrt{5}}{5}$$

$$\frac{\operatorname{sen} \alpha}{\cos \alpha} = \operatorname{tg} \alpha \rightarrow \frac{\operatorname{sen} \alpha}{\sqrt{5}/5} = 2 \rightarrow \operatorname{sen} \alpha = \frac{2\sqrt{5}}{5}$$

a) $\cos 2\alpha = \cos^2 \alpha - \operatorname{sen}^2 \alpha = \left(\frac{\sqrt{5}}{5} \right)^2 - \left(\frac{2\sqrt{5}}{5} \right)^2 = \frac{1}{5} - \frac{4}{5} = -\frac{3}{5}$

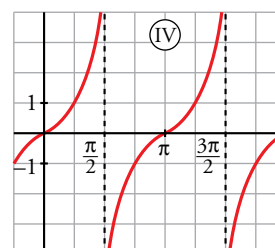
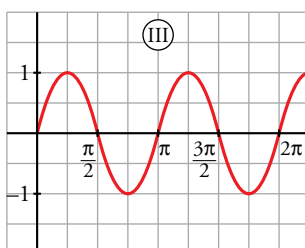
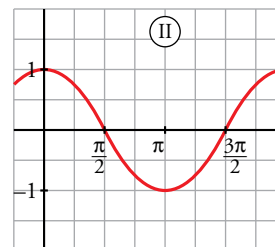
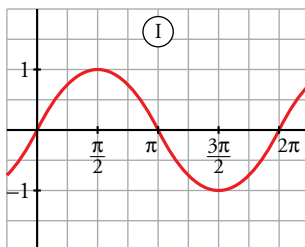
b) $\operatorname{sen} \left(\frac{\pi}{2} - \alpha \right) = \cos \alpha = \frac{\sqrt{5}}{5}$

c) $\operatorname{sen} \frac{\alpha}{2} = \sqrt{\frac{1 - \cos \alpha}{2}} = \sqrt{\frac{1 - (\sqrt{5}/5)}{2}} = \sqrt{\frac{5 - \sqrt{5}}{10}}$

d) $\operatorname{tg} \left(\frac{\pi}{4} + \alpha \right) = \frac{\operatorname{tg} \frac{\pi}{4} + \operatorname{tg} \alpha}{1 - \operatorname{tg} \frac{\pi}{4} \cdot \operatorname{tg} \alpha} = \frac{1 + 2}{1 - 2} = -3$

9 Asocia a cada gráfica una de estas fórmulas:

- a) $y = \operatorname{tg} x$ b) $y = \operatorname{sen} 2x$ c) $y = \cos \left(\frac{\pi}{2} - x \right)$ d) $y = \operatorname{sen} \left(\frac{\pi}{2} + x \right)$



- a) \rightarrow IV b) \rightarrow III c) \rightarrow I d) \rightarrow II

10 Demuestra las siguientes identidades:

a) $\cos^4 x - \operatorname{sen}^4 x = 2 \cos^2 x - 1$

b) $2 \operatorname{tg} x \cos^2 \frac{x}{2} - \operatorname{sen} x = \operatorname{tg} x$

a) $\cos^4 x - \operatorname{sen}^4 x = (\cos^2 x + \operatorname{sen}^2 x)(\cos^2 x - \operatorname{sen}^2 x) = \cos^2 x - \operatorname{sen}^2 x = \cos^2 x - (1 - \cos^2 x) = 2 \cos^2 x - 1$

b) $2 \operatorname{tg} x \cos^2 \frac{x}{2} - \operatorname{sen} x = 2 \operatorname{tg} x \frac{1 + \cos x}{2} - \operatorname{sen} x = \operatorname{tg} x + \operatorname{tg} x \cos x - \operatorname{sen} x = \operatorname{tg} x + \frac{\operatorname{sen} x}{\cos x} \cos x - \operatorname{sen} x = \operatorname{tg} x$

11 Resuelve las ecuaciones siguientes:

a) $2 \operatorname{sen} x + \cos x = 1$

b) $2 \operatorname{sen}^2 \frac{x}{2} + \cos 2x = 0$

a) $2 \operatorname{sen} x + \cos x = 1 \rightarrow (2 \operatorname{sen} x)^2 = (1 - \cos x)^2 \rightarrow 4 \operatorname{sen}^2 x = 1 + \cos^2 x - 2 \cos x \rightarrow$

$$\rightarrow 5 \cos^2 x - 2 \cos x - 3 = 0 \rightarrow \cos x = \frac{2 \pm \sqrt{64}}{10} \begin{cases} \cos x = 1 \\ \cos x = -3/5 \end{cases}$$

$\cos x = 1 \rightarrow x_1 = 0^\circ + 360^\circ \cdot k; k \in \mathbb{Z} \rightarrow$ Vale.

$\cos x = -\frac{3}{5} \begin{cases} x_2 = 126^\circ 52' 12'' + 360^\circ k, k \in \mathbb{Z} \rightarrow$ Vale.
 $x_3 = 233^\circ 7' 48'' \rightarrow$ No vale.

Hemos comprobado las soluciones en la ecuación dada.

b) $2 \operatorname{sen}^2 \frac{x}{2} + \cos 2x = 0 \rightarrow 2 \frac{1 - \cos x}{2} + \cos^2 x - \operatorname{sen}^2 x = 0 \rightarrow$

$\rightarrow 1 - \cos x + \cos^2 x - (1 - \cos^2 x) = 0 \rightarrow 2 \cos^2 x - \cos x = 0 \rightarrow$

$\rightarrow \cos x (\cos x - 1) = 0 \rightarrow \begin{cases} \cos x = 0 \rightarrow x = 90^\circ + 360^\circ k; x = 270^\circ + 360^\circ k \\ \cos x = 1 \rightarrow x = 0^\circ + 360^\circ k \end{cases}$

12 Dado el número complejo $z = 3_{60^\circ}$, expresa en forma polar el conjugado, el opuesto y el inverso.

$\bar{z} = 3_{360^\circ - 60^\circ} = 3_{300^\circ}$

$-z = 3_{60^\circ + 180^\circ} = 3_{240^\circ}$

$\frac{1}{z} = \frac{1_{0^\circ}}{3_{60^\circ}} = \left(\frac{1}{3}\right)_{-60^\circ} = \left(\frac{1}{3}\right)_{300^\circ}$

13 Simplifica: $\frac{i^{10} - 2i^7}{2 + i^{33}}$

$i^{10} = i^4 \cdot i^4 \cdot i^2 = -1; i^7 = i^4 \cdot i^2 \cdot i = -i$

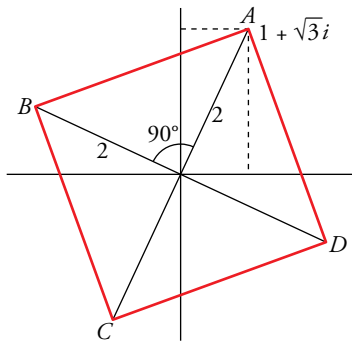
$i^{33} = (i^4)^8 \cdot i = i$

$\frac{i^{10} - 2i^7}{2 + i^{33}} = \frac{-1 - 2(-i)}{2 + i} = \frac{-1 + 2i}{2 + i} = \frac{(-1 + 2i)(2 - i)}{(2 + i)(2 - i)} = \frac{-2 + i + 4i - 2i^2}{(2)^2 - (i)^2} = \frac{5i}{5} = i$

14 Escribe una ecuación de segundo grado cuyas soluciones sean $-1 + \sqrt{3}i$ y $-1 - \sqrt{3}i$.

$[x - (-1 + \sqrt{3}i)][x - (-1 - \sqrt{3}i)] = 0 \rightarrow x^2 + 2x + 4 = 0$

- 15** Un cuadrado cuyo centro es el origen de coordenadas tiene un vértice en el afijo del número complejo $1 + \sqrt{3}i$. Determina los otros vértices y la medida del lado del cuadrado.



Hacemos giros de 90° . Para ello, multiplicamos por 1_{90° :

$$A = 1 + \sqrt{3}i = 2_{60^\circ}$$

$$B = 2_{60^\circ} \cdot 1_{90^\circ} = 2_{150^\circ}$$

$$C = 2_{150^\circ} \cdot 1_{90^\circ} = 2_{240^\circ}$$

$$D = 2_{240^\circ} \cdot 1_{90^\circ} = 2_{330^\circ}$$

$$\overline{AB}^2 = 2^2 + 2^2 \rightarrow \overline{AB} = 2\sqrt{2} \text{ u}$$

- 16** Calcula a y b para que se verifique esta igualdad:

$$\frac{a-2i}{3-i} = \frac{b-i}{5}$$

$$\frac{a-2i}{3-i} = \frac{b-i}{5} \rightarrow 5(a-2i) = (b-i)(3-i) \rightarrow 5a-10i = 3b-bi-3i+i^2 \rightarrow$$

$$\rightarrow 5a-10i = 3b-1+(-b-3)i \rightarrow \begin{cases} 5a = 3b-1 \\ -10 = -b-3 \end{cases} \rightarrow a = 4, b = 7$$

- 17** Resuelve la ecuación $2z^2 + 8 = 0$.

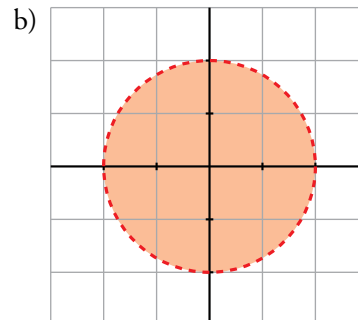
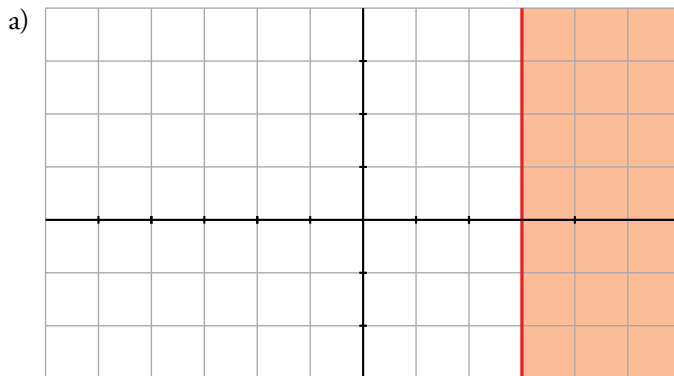
$$2z^2 + 8 = 0 \rightarrow z^2 = -4 \rightarrow z = \pm \sqrt{-4} = \pm 2i \rightarrow z_1 = 2i; z_2 = -2i$$

- 18** Representa gráficamente:

a) $Re(z) \geq 3$

b) $|z| < 2$

c) $z - \bar{z} = -4i$



c) Si $z = a + bi \rightarrow z - \bar{z} = a + bi - (a - bi) = 2bi$

$$z - \bar{z} = -4i$$

Por tanto: $2bi = -4i \rightarrow b = -2$

